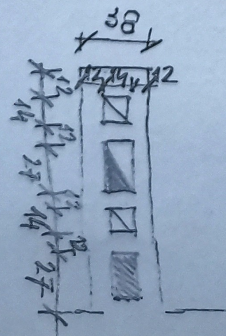
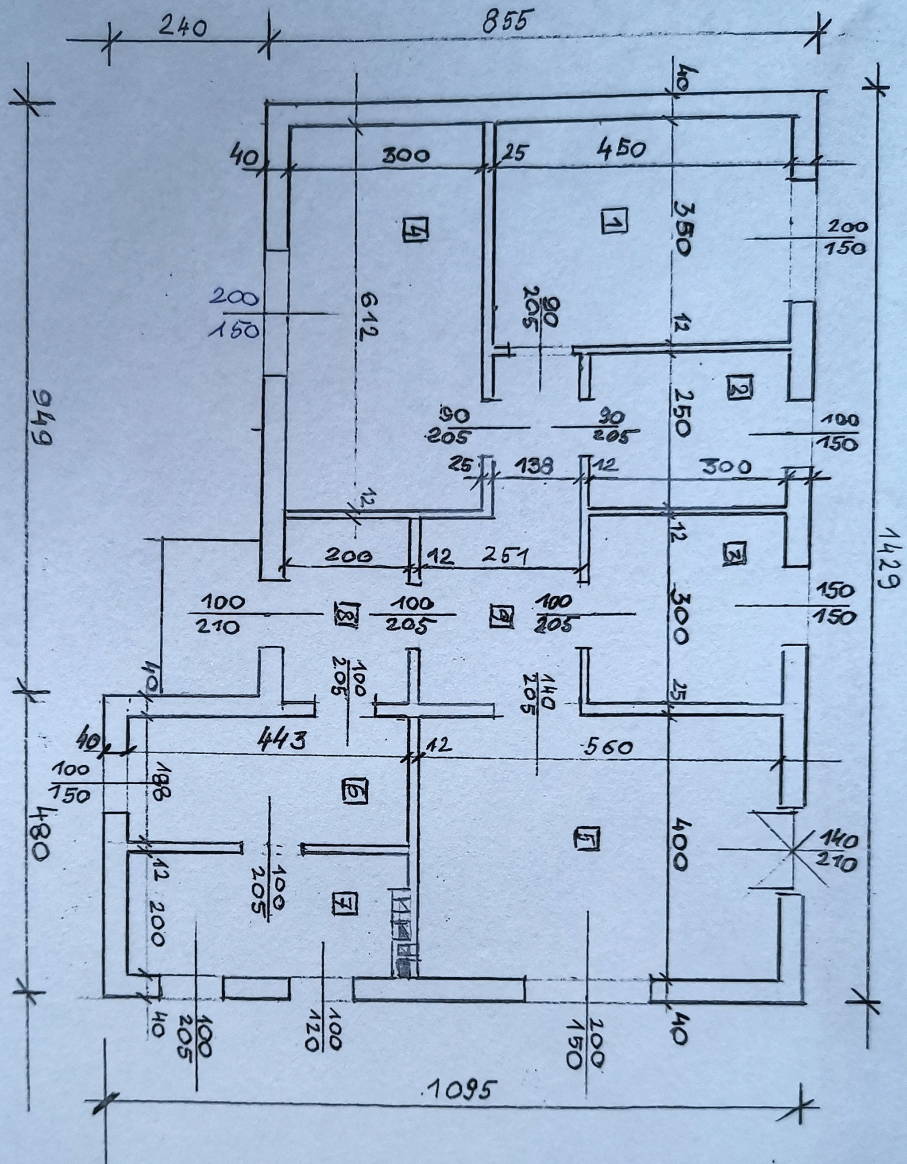


Klasa ITB8 i ITBG
przedmiot -dokumentacja budowlana
18.03.2020

Narysuj rzut budynku (załącznik nr 1) w skali 1:50 zgodnie z oznaczeniami, bez wymiarowania. Zwróć uwagę na rodzaj i grubość linii rysunkowych, które będziesz stosował na rysunku.
POWODZENIA :)

ZAŁĄCZNIK NR 1

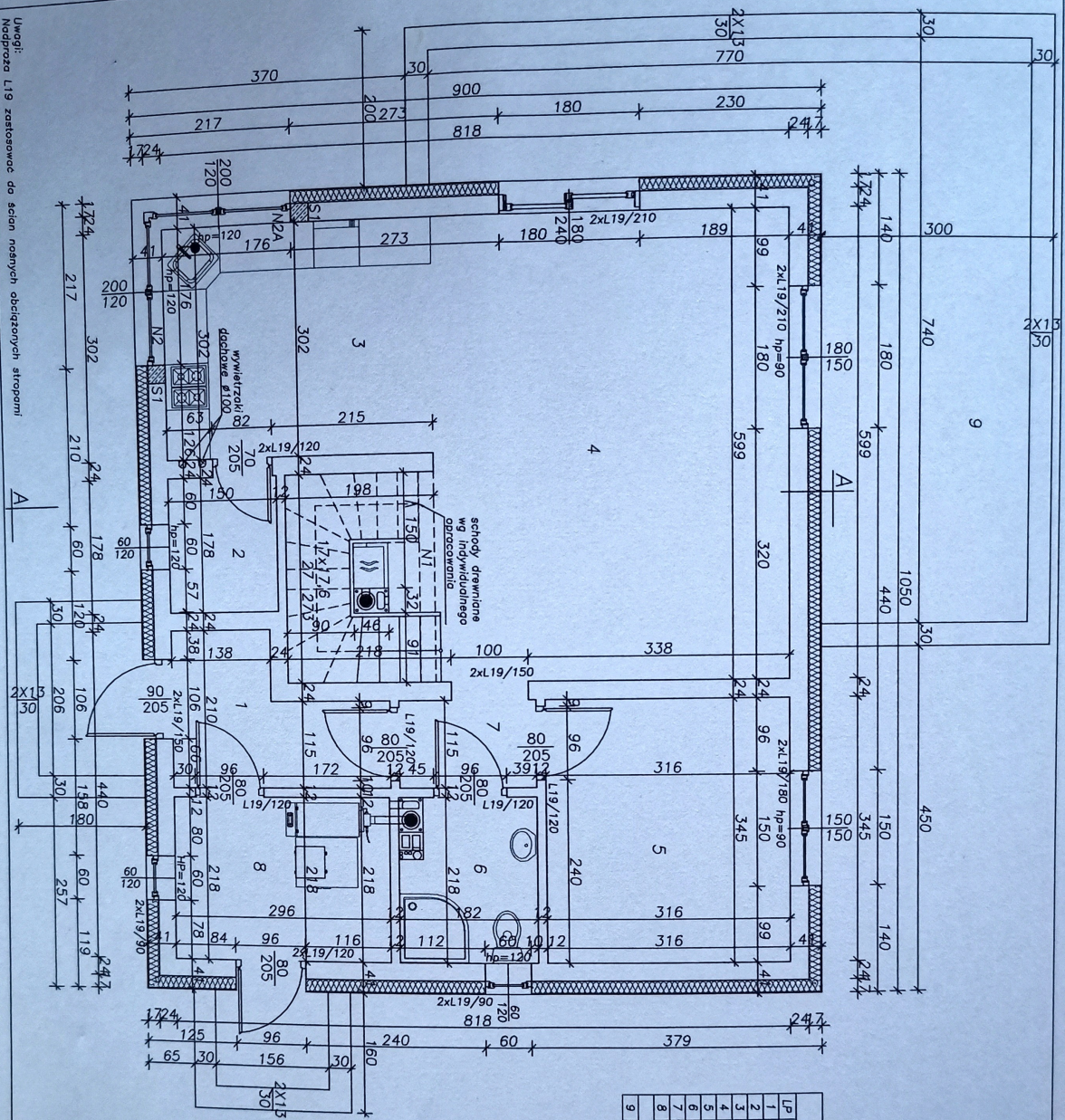


- 1 - STYPIALNIA
- 2 - KAZIENKA
- 3 - KUCHNIA
- 4 - STRAŁNIA
- 5 - FOKUS DZIENNY
- 6 - POM. GOSPODARCZE
- 7 - KSIŁOWNIA
- 8 - PRZEDSIKONIEK
- 9 - KOMUNIKACJA

NARYS W SKALI 1:50
 ZGODNIE Z OZNACZENIAMI
 ŚCIANA ZEWNĘTRZNA - GAZOBEŁTON
 ŚCIANA WEWNĘTRZNA - CEGKA MA-
 ZAPRAME CEM - NAP

PRZYKŁADOWY RYSUNEK RZUTU BUDYNKU

Uwagi:
Nadproża L19 zastosowane do ścian nośnych obciążonych stropami



ZESTAWIENIE POMIĘSZCZEŃ PARTIERU

LP	POMIĘSZCZENIE	RODZ. POSADZKI	Pow. m ²
1	WIATOCZAP	TERAKOTA	4,63
2	SPIZARNA	TERAKOTA	2,60
3	KUCHNIA	TERAKOTA	10,77
4	POKOJ DZIENNY	PANELE PODE.	27,28
5	POKOJ	PANELE PODE.	10,77
6	ŁAZIENKA	TERAKOTA	3,66
7	KORTARZ	TERAKOTA	2,01
8	KOTŁOWNIA	TERAKOTA	6,35
9	TARAS	RAZEM	68,09
		KOSTKA BETONOWA	28,48

RZUT PARTIERU

Opis: Budynek mieszkalny jednorodzinny
 do nr 200/8, obr. [...], gm. Wola Krzeszowska

Układ: Szynon [...]
 ul. [...], 97-300 Piotrków Trybunalski

Architektura

Rzut Partieru

Skala: 1:30
 Nr projektu: 2
 Data: 06.2018