

III TB Organizacja robót budowlanych 02, 06.04.2020

Do podanego tematu dołączam na grupę plik dachy organizacja. Bardzo proszę o zapoznanie się z jego treścią, a następnie wykonanie zadań dotyczących tej tematyki.

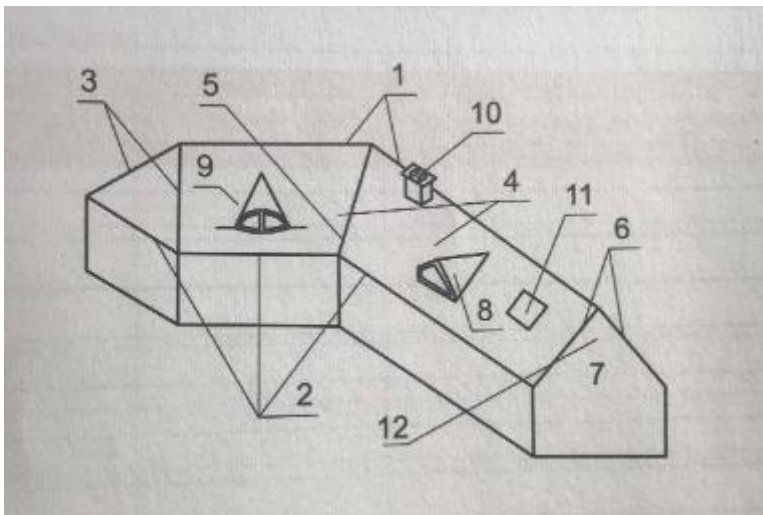
Temat: Technologie wykonania elementów konstrukcyjnych obiektów budowlanych – dachy (2 jednostki lekcyjne)

Zadanie do samodzielnego opracowania

Korzystając z informacji zawartych w podesłanym materiale odpowiedz na pytania:

Zadanie 1. W jaki sposób można podzielić dachy drewniane ze względu na wymiary i sposób łączenia elementów? Jakie stosuje się konstrukcje dachów ciesielskich? Z jakich elementów składa się więźba dachowa?

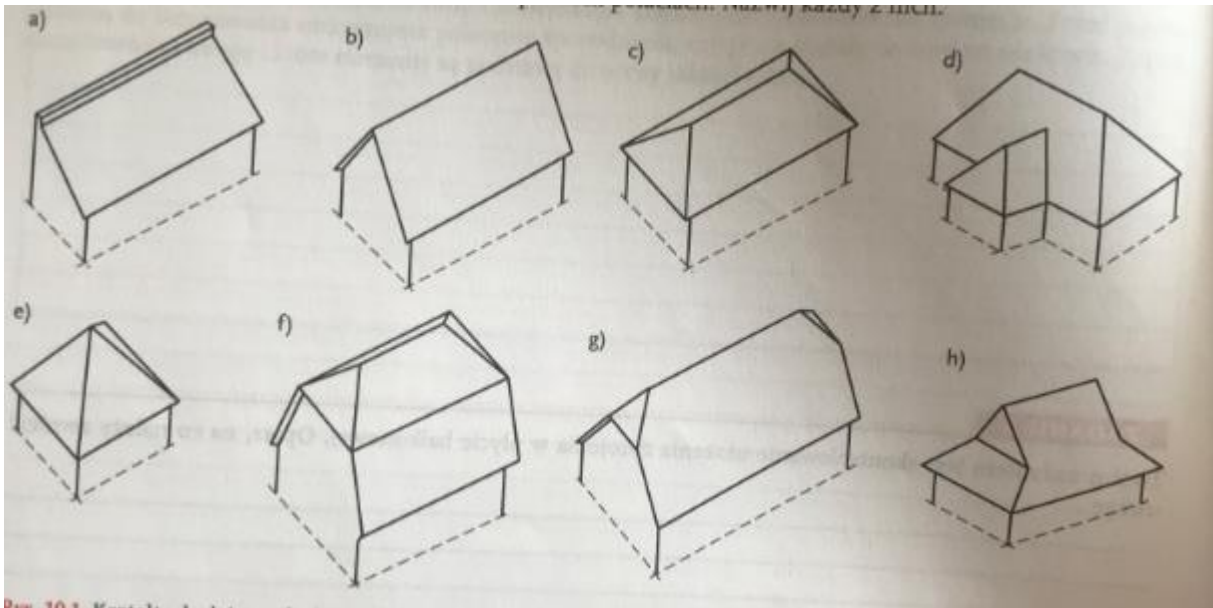
Zadanie 2. Na poniższym rysunku zaznaczono 12 elementów dachu budynku. Nazwij i zapisz każdy z nich.



Nazwy elementów dachu budynku:

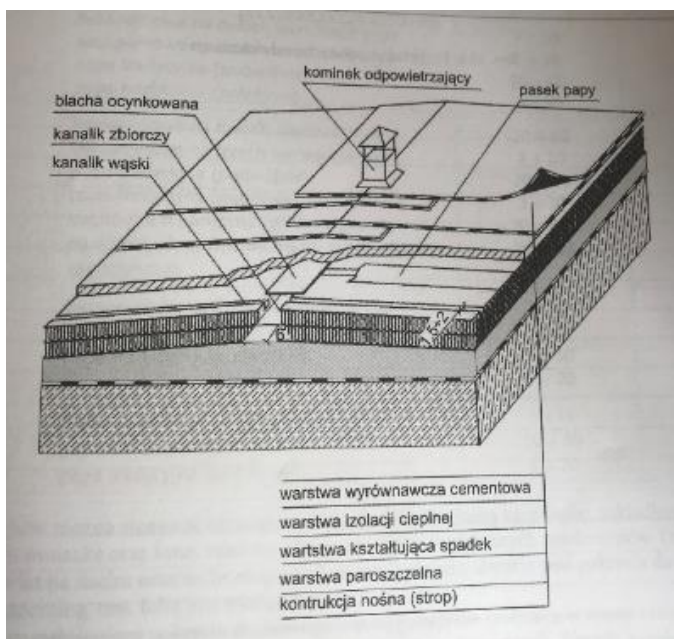
- | | | |
|-----------|-----------|-----------|
| 1 | 2 | 3 |
| 4 | 5 | 6 |
| 7 | 8 | 9 |
| 10 | 11 | 12 |

Zadanie 3. Na poniższym rysunku pokazano różne kształty dachów o płaskich połaciach. Nazwij każdy z nich



- | | | |
|----|----|----|
| a) | b) | c) |
| d) | e) | f) |
| g) | h) | |

Zadanie 4. Stropodach pokazany na poniższym rysunku składa się z wielu warstw i dodatkowych elementów, np. kominka odpowietrzającego. Opisz, jaki jest cel wykonania poszczególnych warstw oraz innych elementów stropodach, a także określ, z jakich materiałów powinny być wykonane.



Wykonane zadania w postaci pliku odt. , pdf, skanu lub zdjęcia pracy np. w zeszycie przedmiotowym proszę podesłać do mnie na adres mailowy: projektowanie@interia.eu do dnia 15.04.2020. W razie jakichkolwiek pytań, problemów z wykonaniem zadania proszę o kontakt mailowy bądź za pomocą Messengera.

Pozdrawiam 😊

Katarzyna Kobylińska-Wodo